






# KHỞI ĐỘNG



HÁI XOÀI






$$60 - 30 = ?$$

30




$$80 - 60 = ?$$

20




$$90 - 80 = ?$$

10



$$50 - 10 = ?$$

40





**Toán**

**LUYỆN TẬP**

Trang 62, 63

**1** Đặt tính rồi tính.

a)

$47 + 20$

$67 - 20$

$67 - 47$

b)

$56 + 41$

$97 - 56$

$97 - 41$

**1** Đặt tính rồi tính.

$31 + 7$

$$\begin{array}{r} 31 \\ + 7 \\ \hline 38 \end{array}$$

$23 + 64$

$$\begin{array}{r} 23 \\ + 64 \\ \hline 87 \end{array}$$

$86 - 15$

$$\begin{array}{r} 86 \\ - 15 \\ \hline 71 \end{array}$$

$95 - 3$

$$\begin{array}{r} 95 \\ - 3 \\ \hline 92 \end{array}$$

**1** Đặt tính rồi tính.

a)

$$47 + 20$$

$$\begin{array}{r} 47 \\ + 20 \\ \hline 67 \end{array}$$

$$67 - 20$$

$$\begin{array}{r} 67 \\ - 20 \\ \hline 47 \end{array}$$

$$67 - 47$$

$$\begin{array}{r} 67 \\ - 47 \\ \hline 20 \end{array}$$

3

Đo chiều cao ba bạn rô-bốt được kết quả như hình vẽ. Hỏi bạn nào cao nhất? Bạn nào thấp nhất?

Thấp nhất



A

Cao nhất

97 cm



B

91 cm




C



2

Bạn nào cầm thẻ ghi phép tính có kết quả lớn nhất?



$$65 - 41$$

Nam

24

28



$$58 - 30$$

Việt

29



$$89 - 60$$

Mai

31



$$67 - 36$$

Rô-bốt


# Trò chơi “Hái nấm”

## Hái nấm

Dán các số: 6, 12, 34, 35, 50, 67 vào sáu mặt của con xúc xắc.

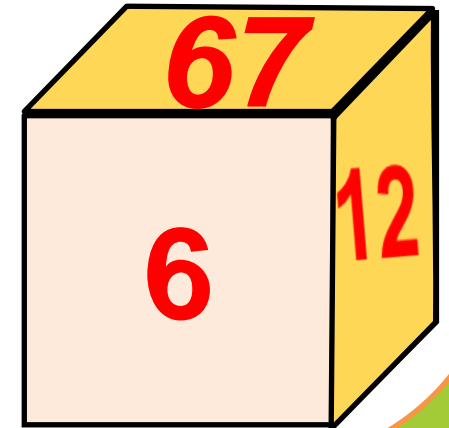
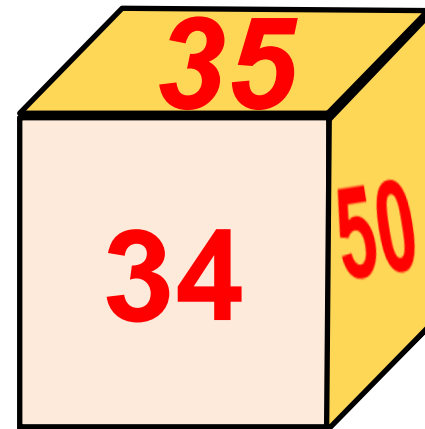
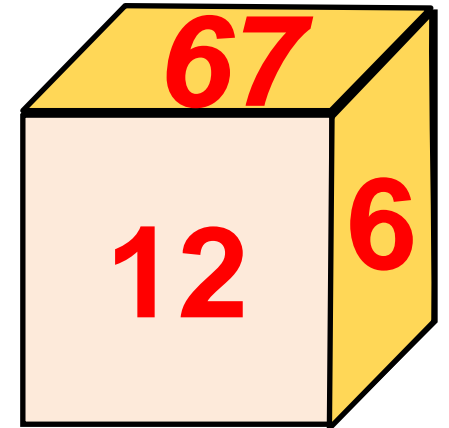
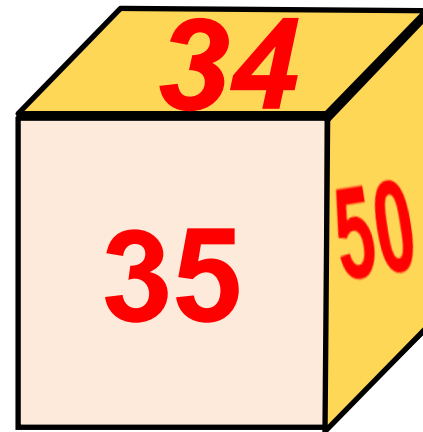
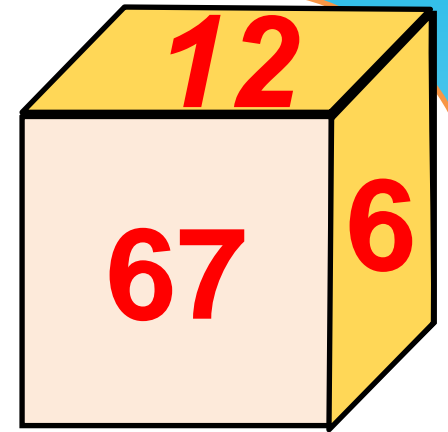
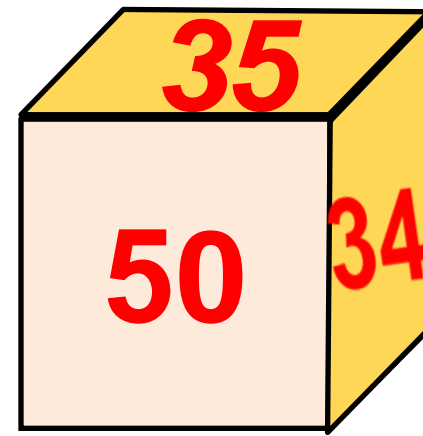
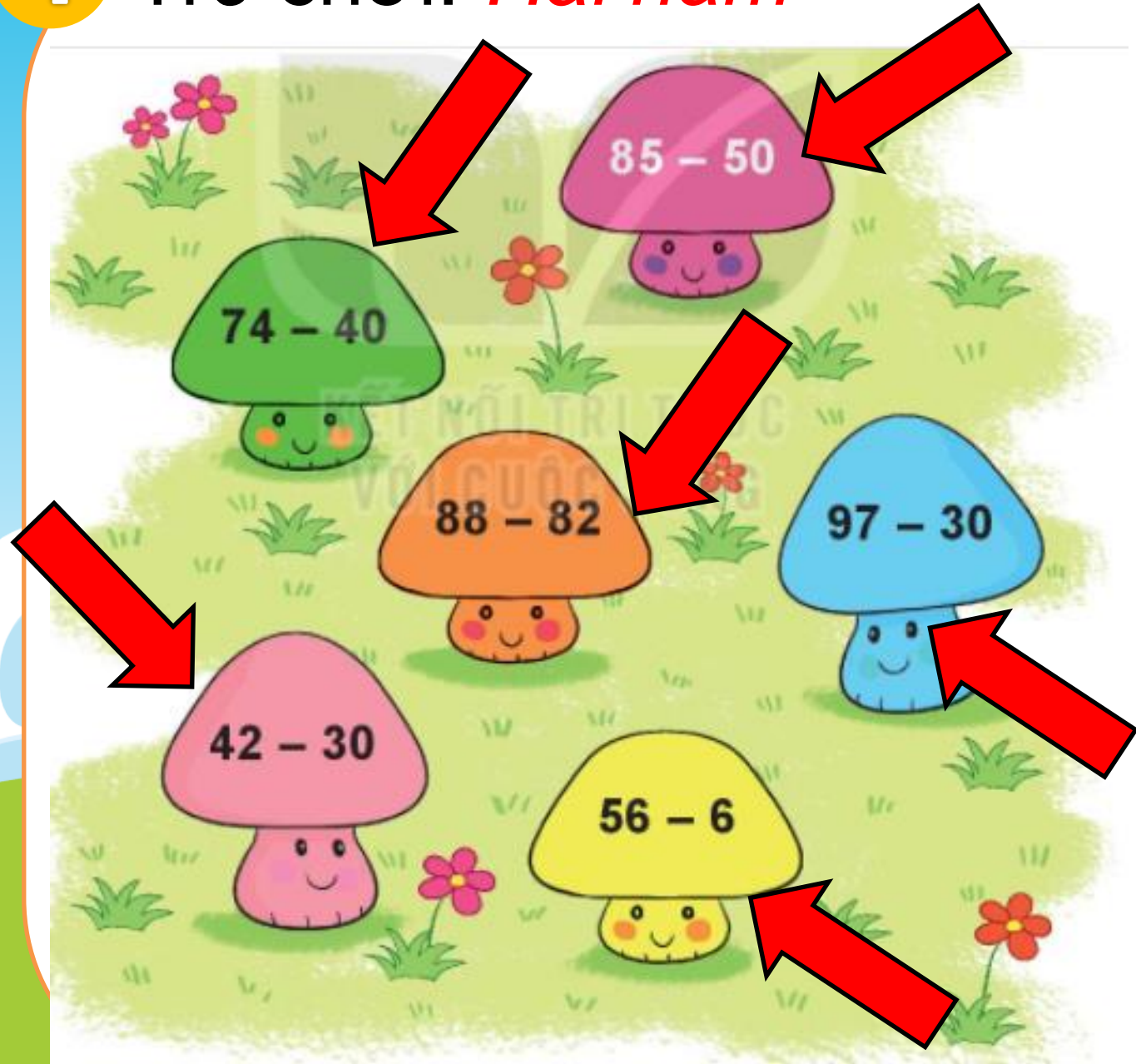
Cách chơi:

- Chơi theo nhóm.
- Khi đến lượt, người chơi gieo xúc xắc để nhận được một số ở mặt trên xúc xắc. Hái cây nấm ghi phép tính có kết quả bằng số nhận được.
- Trò chơi kết thúc khi hái được 4 cây nấm.



4

Trò chơi: *Hái nấm*





CHỨC SÁCS EM  
HỌC TỐT!